


Lundi 15 juin 2020

Tous les exercices sont à copier dans le cahier de devoirs (tu peux utiliser le porte-vues pour t'aider). Attention ! N'oublie pas que la présentation doit être la même que dans le cahier d'entraînement.

Les exercices avec une étoile  sont plus difficiles. S'ils te posent problème, tu n'es pas obligé de le faire.

Merci de renvoyer l'exercice sur la nature par mail. 😊

FRANÇAIS

Lecture stratégique :

Lis ce texte et surligne les 8 groupes de mots qui désignent Sophie.

Alexandre chercha en vain sa sœur : Sophie avait bel et bien disparue... La dernière qu'il l'avait vue, elle enfilait ses bottes magiques. La jeune fille avait l'air particulièrement stressée : c'était une véritable pile électrique. Il avait essayé de lui parler, mais elle ne l'avait pas écouté.

Passé simple :

Je sais conjuguer au passé simple

L'arbitre (commettre) une erreur et (accorder) un penalty injustifié. Les apprentis conducteurs (apprendre) par cœur le code de la route et ils (réussir) leur permis du premier coup. Tu (reconduire) le représentant à la porte de l'appartement sans rien lui commander. Je (détruire) les nids de frelons. Ce bruit en provenance du grenier (m'intriguer). Je (vouloir) apprendre à jouer à la belote. Tu (indiquer) le chemin au voyageur égaré.

Je sais transformer au passé simple

Vous échangez vos numéros de téléphone. Nous avons mangé avec modération. Tu plonges dans le grand bain.

La nature des mots :

- revoir les affichages



COUP DE POUCE !

Tous les mots doivent être soulignés ! Aide-toi des affiches suivantes :

Les verbes

une **action**
ou
un **état**

Les déterminants

article défini : le, la, l',
les

article indéfini : un, une,
des

dét. possessifs : ma,
ton, ses, nos, votre...

dét. démonstratifs : ce,
cet, cette, ces

Les conjonctions de coordination

mais, ou, et,
donc, or, ni, car

Les pronoms personnels objets

me, moi, te, toi, le, l',
la, lui, elle, nous,
vous, leur, eux, elles

Les noms

un objet, un animal, ...

nom commun : livre, ...

nom propre : Lina,
Bischheim, ...

Les adjectifs qualificatifs

Précisions sur le nom.

Comment est-il ?

Il est ...

lourd, transparent, grincheux...

Les pronoms personnels sujets

je, tu, il, elle, on

nous, vous, ils, elles

Les adverbes

Précisions sur le verbe.

*beaucoup, très, assez, fièrement,
lentement, joliment, bien, ...*

Les prépositions

à, dans, par, pour, en,
vers, avec, de, sans,
sous, sur, contre,
avant ...

Je connais la nature des mots

On a construit le Taj Mahal avec des matériaux originaires de diverses régions de l'Inde et du reste de l'Asie. Mille éléphants ont transporté les matériaux de construction durant l'édification.

MATHÉMATIQUES

Calcul mental :

Rappel :

$54 \times 10 = 540$	$5,4 \times 10 = 54$	$0,54 \times 10 = 5,4$	$0,054 \times 10 = 0,54$
$38 \times 100 = 3\ 800$	$3,8 \times 100 = 380$	$0,38 \times 100 = 38$	$0,038 \times 100 = 3,8$
$72 \times 1\ 000 = 72\ 000$	$7,2 \times 1\ 000 = 7\ 200$	$0,72 \times 1\ 000 = 720$	$0,072 \times 1\ 000 = 72$

$35,4 \times 10 = \dots\dots\dots$	$0,04 \times 100 = \dots\dots\dots$
$75 \times 100 = \dots\dots\dots$	$3,75 \times 1\ 000 = \dots\dots\dots$
$80,6 \times 1\ 000 = \dots\dots\dots$	$0,005 \times 100 = \dots\dots\dots$
$30 \times 1\ 000 = \dots\dots\dots$	$354,6 \times 10 = \dots\dots\dots$

Problème :



COUP DE POUCE !

N'hésite pas à utiliser ton ardoise ou une feuille de brouillon pour t'aider si nécessaire.

Je sais résoudre des problèmes

Monsieur Faure prend l'avion à Paris à 13h20 pour se rendre en Jordanie. La durée du vol étant de 4h30min, à quelle heure l'avion arrive-t-il ?



Ce soir, Jean souhaite regarder à 20h35 le western qui passe à la télévision. Le film dure 1h56. A quelle heure se termine-t-il ?

Périmètre - Aire : Lis la leçon suivante :

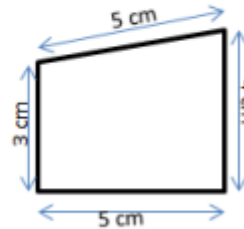


Mes 3 - Le périmètre

Le **périmètre** est la mesure du **contour** d'une figure.

Pour calculer un périmètre, on doit **additionner la mesure de tous ses côtés.**

$P = 5 + 4 + 5 + 3 = 17$
Le périmètre de ce polygone est de 17 cm.



Je sais calculer des périmètres



COUP DE POUCE !

Pense à ne pas oublier l'unité dans ta réponse.

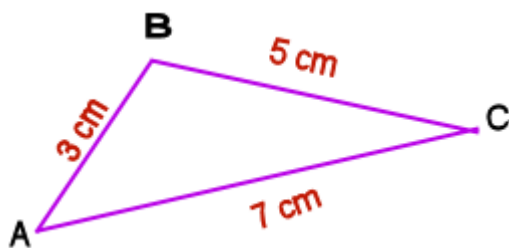


Figure 1 : périmètre =

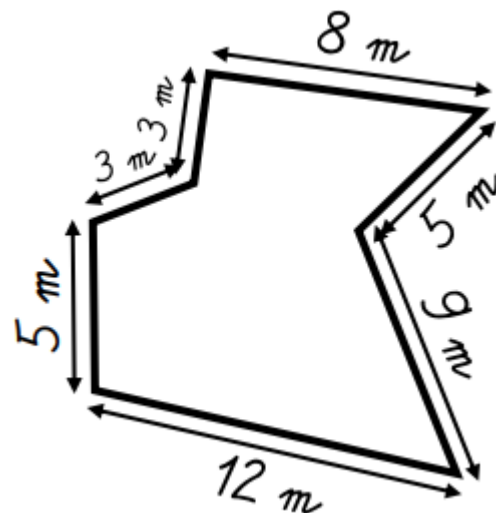


Figure 2 : périmètre =

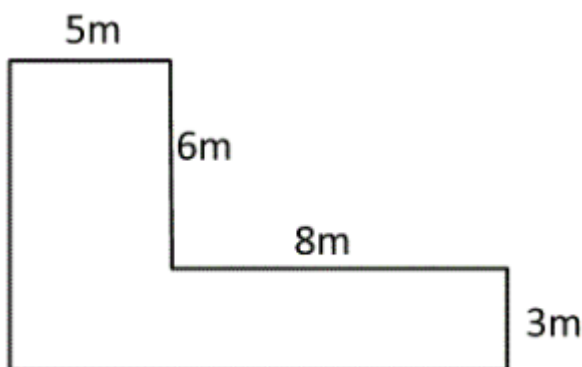


Figure 3 : périmètre =

HISTOIRE

Rappel :

Nous avons vu qu'après l'armistice, le maréchal Pétain impose un régime autoritaire et collabore avec l'Allemagne. Le territoire français est occupé par les allemands et la population subit des pénuries.

Alors que certains collaborent avec l'occupant, d'autres résistent après l'appel lancé par le Général de Gaulle le 18 juin 1940. Ils combattent par la contre propagande, les sabotages et la lutte armée... : c'est la résistance

Observe les documents et réponds aux questions dans ton cahier de devoirs.

Attention, il faut faire des phrases et utiliser tes propres mots !

À la fin de 1942, l'expansion des puissances de l'Axe (Allemagne, Italie et Japon) est interrompue sur tous les fronts.

Grâce à l'utilisation systématique du radar, les Anglais reprennent l'avantage dans les combats navals qui ont lieu dans l'océan Atlantique. Dans l'océan Pacifique, les Américains infligent de lourdes pertes aux Japonais et se lancent dans la reconquête des îles sous domination japonaise.

En Europe de l'Est, l'armée allemande piétine sur le front russe. De septembre 1942 à février 1943, les armées russes et allemandes s'affrontent violemment pour la maîtrise de la ville de Stalingrad. L'armée allemande est vaincue, c'est sa première défaite. 400 000 soldats allemands sont tués ou faits prisonniers.

1 Un soldat allemand à la bataille de Stalingrad

« 18 septembre: Le combat se poursuit depuis 3 jours à l'intérieur d'un silo* à blé. Si toutes les maisons de Stalingrad sont défendues de cette façon, aucun de nos soldats ne rentrera en Allemagne.

22 octobre: Notre régiment n'a pas réussi à entrer dans l'usine que nous attaquons depuis trois semaines. Nous avons perdu beaucoup d'hommes.

28 décembre: On a mangé tous les chevaux. Je suis prêt à manger de la viande de chat. Les soldats sont devenus semblables à des cadavres ou à des fous, ils ne cherchent qu'un aliment quelconque à se mettre sous la dent. On n'a plus la force de marcher. »

Extraits du *Journal d'un soldat allemand*.

* Silo: réserve.

Document 1

1. Fin 1942, qui prend l'avantage dans l'océan Atlantique ? dans l'océan Pacifique ?
2. Contre qui se bat l'armée Allemande en Europe de l'Est ?
3. Par qui a été écrit l'extrait du document 1 ?
4. « Aucun de nos soldats ne rentrera en Allemagne », à l'aide du document 1, trouve d'autres phrases qui montrent que l'armée de ce soldat est en grande difficulté.



5. Explique en une ou deux phrases la situation de l'Allemagne à partir de fin 1942.