

FICHE DE MATHS POUR MARDI 2 JUIN :

entraînement (faire la fiche puis vérifier son travail avec le corrigé).

1) Calcul : addition en ligne les centaines (leçon CM23) : calcule

$400 + 10 = \underline{\quad}$ $100 + 20 = \underline{\quad}$ $200 + 100 = \underline{\quad}$


$300 + 40 = \underline{\quad}$ $90 + 800 = \underline{\quad}$ $70 + 600 = \underline{\quad}$

2) Calcul posé : pose et effectue les opérations suivantes (leçons M27, M30, M35)

$254 - 27$

$359 - 39$

$362 + 18 + 125$



3) Décompose comme dans l'exemple (leçon M26)

$232 = 100 + 100 + 10 + 10 + 10 + 2$

$361 = \underline{\hspace{10cm}}$

$571 = \underline{\hspace{10cm}}$

$632 = \underline{\hspace{10cm}}$

$292 = \underline{\hspace{10cm}}$

4) Range ces nombres dans l'ordre croissant (du plus petit au plus grand) (leçon M31)

$46 - 464 - 146 - 446 - 164$

$\underline{\hspace{1cm}} < \underline{\hspace{1cm}} < \underline{\hspace{1cm}} < \underline{\hspace{1cm}} < \underline{\hspace{1cm}}$

5) Range ces nombres dans l'ordre décroissant (du plus grand au plus petit) (leçon M31)

$312 - 128 - 438 - 462 - 162$


$\underline{\hspace{1cm}} > \underline{\hspace{1cm}} > \underline{\hspace{1cm}} > \underline{\hspace{1cm}} > \underline{\hspace{1cm}}$

6) Résous ce problème (leçons M37, M38)

Un journal coute 1 € 20 c, Fatou a donné 2 €.

Combien le marchand de journaux doit-il lui rendre ?

Schéma / calcul



FICHE DE MATHS POUR MARDI 2 JUIN :

Correction

1) Calcul : addition en ligne les centaines : calcule

$$400 + 10 = 410 \quad 100 + 20 = 120 \quad 200 + 100 = 300$$

$$300 + 40 = 340 \quad 90 + 800 = 890 \quad 70 + 600 = 670$$

2) Calcul posé : pose et effectue les opérations suivantes

$$254 - 27$$

$$359 - 39$$

$$362 + 18 + 125$$

	2	5	4
-		2	7
<hr/>			
	2	2	7

	3	5	9
-		3	9
<hr/>			
	3	2	0

	3	6	2
		1	8
+	1	2	5
<hr/>			
	5	0	5

3) Décompose comme dans l'exemple

$$232 = 100 + 100 + 10 + 10 + 10 + 2$$

$$361 = 100 + 100 + 100 + 10 + 10 + 10 + 10 + 10 + 10 + 1$$

$$571 = 100 + 100 + 100 + 100 + 100 + 10 + 10 + 10 + 10 + 10 + 10 + 10 + 1$$

$$632 = 100 + 100 + 100 + 100 + 100 + 100 + 10 + 10 + 10 + 2$$

$$292 = 100 + 100 + 10 + 10 + 10 + 10 + 10 + 10 + 10 + 10 + 10 + 2$$

4) Range ces nombres dans l'ordre croissant (du plus petit au plus grand)

$$46 < 146 < 164 < 446 < 464$$

5) Range ces nombres dans l'ordre décroissant (du plus grand au plus petit)

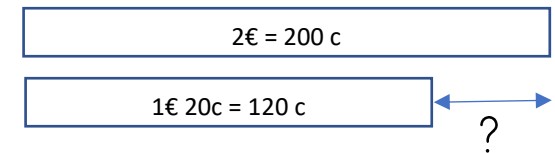
$$462 > 438 > 312 > 162 > 128$$

6) Résous ce problème

Un journal coûte 1 € 20 c, Fatou a donné 2 €.

Combien le marchand de journaux doit-il lui rendre ?

Schéma / calcul



$$200 - 120 = ? \quad \text{ou} \quad 120 + ? = 200$$

$$200 - 120 = 80$$

Le marchand doit lui rendre 80 centimes.