
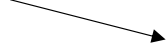


Vendredi 15 mai 2020

<u>Domaine</u>	<u>Déroulement</u>	<u>Modalité de travail</u>	<u>Durée</u>
Numération	<p>Objectif : comparer et ranger des nombres à trois chiffres</p> <p>Exercice 1 Compare ces nombres avec < ou >.</p> <p>592 382 768 402 99.....199</p> <p>670 541 374 908 109.....371</p> <p>760 415 805 508 450.....540</p> <p>Exercice 2 Range ces nombres dans l'ordre croissant. </p> <p style="text-align: center;">890 272 722 89 398</p> <hr/> <p>Exercice 3 Range ces nombres dans l'ordre décroissant. </p> <p style="text-align: center;">910 61 769 431 529</p> <hr/>	Cahier de brouillon	10'

Grandeurs et mesures

Objectif : lire l'heure à la demi-heure

Consignes :

1. Visionne la vidéo suivante en cas de besoin : <https://lesfondamentaux.reseau-canope.fr/discipline/mathematiques/grandeurs-et-mesures/mesures-de-durees/lire-lheure-12.html>

2. Note l'heure à côté de chaque horloge

1 jour = 24 heures

1 heure = 60 minutes

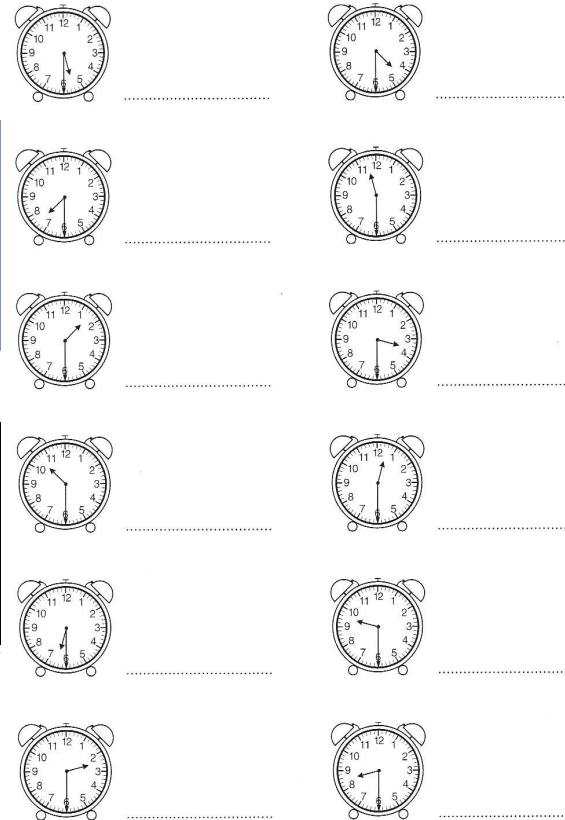
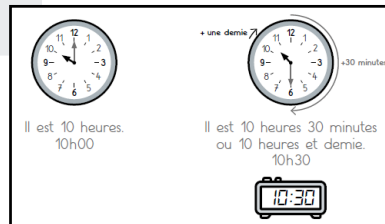


Il est 8 heures.

La petite aiguille indique les heures.
La grande aiguille indique les minutes.

En une heure, la petite aiguille se déplace d'un chiffre à l'autre pendant que la grande aiguille fait un tour complet du cadran.

1 heure = 60 minutes
1 h = 60 min



Cahier de brouillon

20'

Objectif : lire un texte avec aisance et fluidité

Consigne : lire le plus de mots possibles sans erreur en une minute.

Il s'agit de lire 3 fois le texte suivant en essayant d'améliorer son score.

Score = nombre de mots lus – le nombre d'erreurs

La princesse au petit pois

Il était une fois un prince qui cherchait une princesse ;	10
mais il voulait une vraie princesse. Il parcourut le monde	20
pour en trouver une mais il n'était jamais satisfait.	29
Il y avait toujours quelque chose qui n'allait pas. Un soir	40
qu'il faisait un orage terrible, quelqu'un frappa à la porte.	50
Le roi alla ouvrir. C'était une jeune fille toute ruisselante de pluie.	62
Elle disait qu'elle était une vraie princesse.	69
Pour savoir si cette jeune fille disait la vérité, la reine mit	81
un petit pois au fond du lit. Puis, elle mit vingt matelas	93
par-dessus le pois. C'était là que la princesse devait passer	104
la nuit. Le lendemain, on lui demanda comment elle avait dormi :	115
« Très mal ! J'ai des bleus partout ! Il y avait quelque chose	126
de très dur dans mon lit ! ». Alors, tout le monde était sûr	138
que c'était une vraie princesse puisqu'elle avait senti un pois	148
à travers vingt matelas !	152

Lecture

5'

Objectif : comparer et ranger des longueurs en m, dm et cm

$$1 \text{ m} = 100 \text{ cm}$$

$$1 \text{ m} = 10 \text{ dm}$$

$$1 \text{ dm} = 10 \text{ cm}$$

Exercice 1 Compare ces longueurs avec $<$, $>$ ou $=$

2m 200cm

9cm 90dm

65cm 7dm

5dm 40cm

40cm 4dm

3m 500cm

100cm 11dm

86cm 1m

4m 4dm

300m 3dm

1m 12dm

250cm 3m

Exercice 2 Range les longueurs suivantes dans l'ordre croissant.

5 m 10dm 7cm 8dm 81cm

**Grandeurs et
mesures**

Cahier de
brouillon

10'

<p>Grammaire</p>	<p>Objectif : identifier les sujets personnels Consigne : recopie les pronoms personnels dans l'ordre du texte puis note la personne dont il s'agit Exemple : vous → 2^{ème} personne du pluriel</p> <p>Tous les matins, je prends l'autobus pour me rendre à l'école. Il passe vers 7 h 30. Mon amie Anaïs monte aussi. Elle habite à quelques mètres de chez moi. Le chauffeur est très prudent, il respecte les limites de vitesse, et nous apprécions sa gentillesse. Les garçons font parfois du chahut et ils se font gronder.</p>	<p>Cahier de brouillon</p>	<p>10'</p>
------------------	--	----------------------------	------------

Calcul	<p>Objectif : poser des soustractions de nombres à trois chiffres avec ou sans retenue Consigne : pose les soustractions suivantes</p> <p>952 – 381 =</p> <p>707 – 587 =</p> <p>317 – 158 =</p> <p>504 – 236 =</p> <p>864 – 436 =</p>	Cahier de brouillon	10'
--------	--	---------------------	-----