

## Correction du 15 mai

### Lecture suivie Bilan

Les élèves qui ont terminé Matilda me renvoient le tableau par mail, si votre enfant n'a pas terminé il peut terminer la lecture à son rythme et me renverra le tableau une fois qu'il aura fini.

Question	1	2	3	4	5	6	7
réponse	—	— —	—	—	—	—	—

### Lexique

**Consignes :** Voici une liste de description de métiers, à toi de trouver le métier qui correspond en utilisant le bon suffixe (terminaison du mot)

3

#### Métiers

- Animer une émission de télé.
- Vendre des antiquités.
- Tenir un commerce.
- Remplacer les professeurs absents.
- Vendre des livres.
- Sculpter le bois ou la pierre.
- Enseigner une matière à des élèves.
- Travailler dans un secrétariat.
- Réaliser des films.
- Travailler dans la publicité.

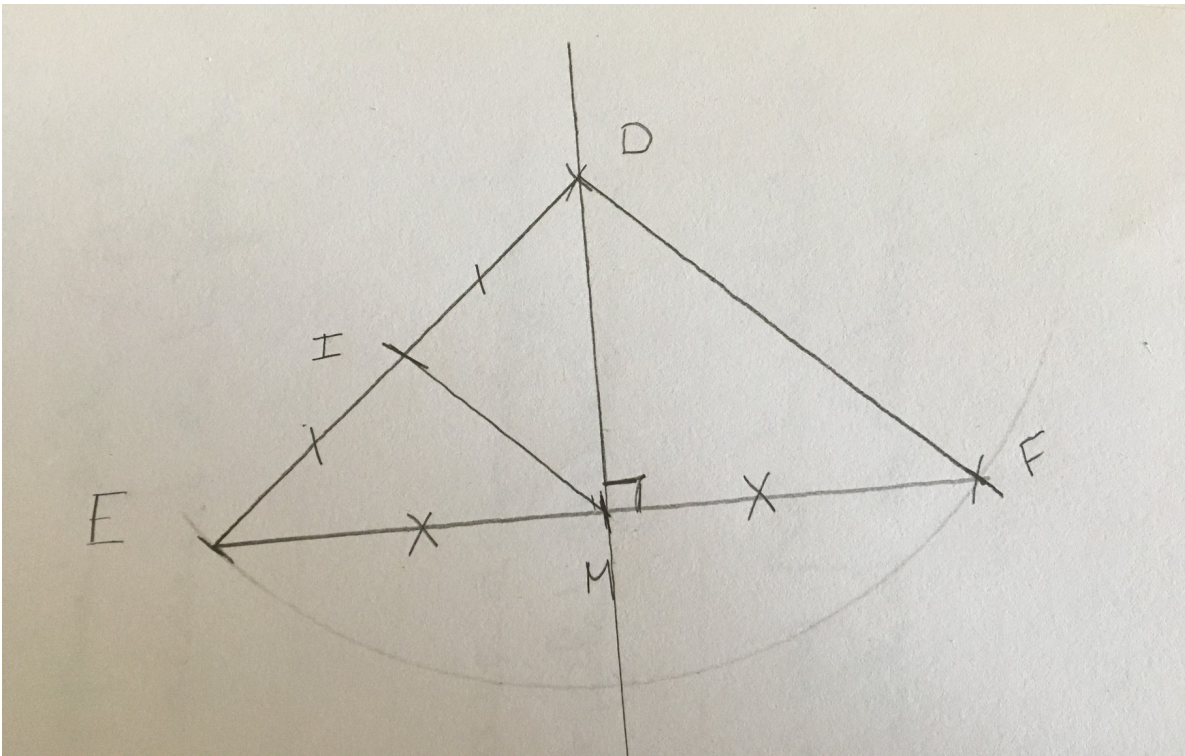


Animateur/ animatrice, antiquaire/ antiquaire,  
commerçant/commerçante,  
remplaçant/remplaçante, libraire/libraire,  
sculpteur/sculptrice, enseignant/enseignante,  
secrétaire/secrétaire, réalisateur/réalisatrice,  
publicitaire/publicitaire.

### Géométrie

**Consignes :** Lis le programme de construction et trace la figure, réponds aux questions en t'aidant de la figure que tu as tracée.

1. - Trace un triangle isocèle DEF tel que  $DE = DF = 6$  cm.
2. - Place un point M au milieu de [EF].
3. - Trace la droite perpendiculaire à EF qui passe par D.  
Que remarques-tu ? La droite perpendiculaire à (EF) qui passe par D, passe aussi par M.
4. - Place un point I, milieu de [DE].
5. - Trace le segment [IM].  
Comment s'appelle la figure EIM ? EIM est un triangle isocèle ( $EI=IM=3$ cm)  
Que dire des points E, M et F ? E, M et F sont alignés (ils sont tous sur une même droite)  
Que dire des droites (DM) et (IM) ? Les droites (DM) et (IM) sont sécantes (elles se coupent en M)  
Que dire de [IM] et [FD] ? (IM) et (DF) sont parallèles.




## Histoire

**Consignes :** Lis attentivement les documents sur l'art roman et l'art gothique puis répons aux questions

- 1- Quand l'art roman apparaît-il ? L'art roman apparaît vers 950.
- 2- Quand l'art gothique apparaît-il ? L'art gothique apparaît au 12ième siècle (vers 1100).
- 3- Y a t-il beaucoup d'ouverture dans une église d'architecture romane ? Non, il n'y a pas beaucoup de fenêtres.
- 4- Quel type d'architecture permet de construire les plus hauts bâtiments ? L'architecture gothique permet de construire des bâtiments plus hauts.
- 5- Indique si les bâtiments ci-dessous sont d'inspiration romane ou gothique?

Pour différencier les églises romanes des églises gothique, je regarde comment sont les fenêtres et les décorations. Si il y en a peu ou pas c'est une église romane, si il y en a beaucoup c'est une église gothique.



gothique




romane



gothique



gothique



romane



gothique



gothique



romane



gothique

**Consignes :** Essaye de compléter la leçon avec les mots suivants : arcs, courants, brisés, simple, lumineux, roman, grandes, hauts, gothique, ouvertures, complexes

Leçon:

Au Moyen-âge, il y a deux courants d' architecture religieuse :

- l'art roman jusqu'au 12ème siècle

- l'art gothique jusqu'au 16ème siècle

L'art roman se caractérise par une architecture simple, avec peu d' ouvertures et des arcs de plein cintre.

L'art gothique se caractérise par une architecture alambiquée, avec de grandes ouvertures, des formes complexes et des arcs brisés. Les bâtiments gothiques sont plus hauts et plus lumineux que les bâtiments romans.