

**Lundi 25 Mai**

Calculs

$400 - 300 = 100$        $780 - 400 = 380$        $327 - 200 = 127$

$600 - 300 = 300$        $530 - 200 = 330$        $695 - 600 = 95$

Résous le problème.


3 Le professeur répartit ses 24 élèves en 4 équipes.

Combien d'élèves y aura-t-il par équipe?

Je y aura 6 élèves dans chaque équipe.

Je cherche.

$6 \times 4 = 24$

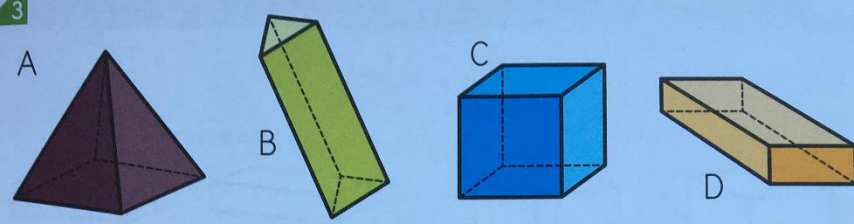


Calculs


$739 + 60 = 799$        $327 + 432 = 759$

$858 + 35 = 893$        $721 - 8 = 713$


3 Complète.




A B C D




En utilisant tous ces polygones, je peux construire le solide ...C...



En utilisant tous ces polygones, je peux construire le solide ...B...



En utilisant tous ces polygones, je peux construire le solide ...A...



En utilisant tous ces polygones, je peux construire le solide ...D...

**Orthographe**

singe / disque / sandale / rose

poisson / chaussette / escargot / trousse

citron / cinéma / sifflet / cigarette

farce / policier / ciseaux / courage

## Grammaire

Comment t'appelles-tu ?

Que voulez-vous faire ?

Qui chante si bien ?

Où sont passées mes pantoufles ?

Quel âge as-tu ?

## Conjugaison

Les sorcières ont un nez crochu, elles sont très laides.

Mes cousins ont beaucoup de chance, ils sont en vacances.

Les fées sont jolies, elles ont de longs cheveux.

Les vélos sont neufs, ils sont encore dans les cartons.

## Mardi 26 mai

### Calculs

$$900 - 700 = \underline{200} \quad 974 - 800 = \underline{174} \quad 708 - 500 = \underline{208}$$

$$850 - 600 = \underline{250} \quad 891 - 300 = \underline{591} \quad 709 - 300 = \underline{409}$$

### Calculs

$$683 - 37 = 646$$

$$962 - 5 = 957$$

$$150 + 160 = 310$$

$$260 + 250 = 510$$

$$220 + 390 + 180 = 690$$

**Résous le problème.**

4 Le fleuriste a reçu 42 roses.  
Il veut faire 5 bouquets.


Combien de roses y aura-t-il dans chaque bouquet?

Il y aura 8 roses.

Combien de roses restera-t-il?


Il restera 2 roses.

Je cherche.

$$5 \times 8 = 40$$
$$5 \times 8 + 2 = 42$$


**Complète.**

4



La pyramide a 5 faces, 5 sommets et 8 arêtes.  
Sur ce dessin de la pyramide, on ne voit que:

2 faces, 4 sommets et 5 arêtes.

### Orthographe

une sardine      la poste      une adresse

une personne      de la mousse      un costume

une tasse      une sortie      un geste

une réponse      de la poussière

## Grammaire

Comment t'appelles-tu ?

Je m'appelle Fatou.

Quel est ton sport préféré ?

Mon sport préféré est le basket.

Où allez-vous ?

Nous allons à la piscine.

## Conjugaison

Tu as un joli chapeau blanc, tu es élégante.

Nous avons des pouvoirs magiques, nous sommes des sorciers.

Je suis frileuse, j'ai souvent froid.

Vous êtes très fatigués, pourtant vous n'avez pas sommeil.

## Mon poème

Un éléphant en costume neuf,

Qui se faire cuire un œuf,

Ça n'existe pas, ça n'existe pas.

Un éléphant en kimono,

Qui porte une souris sur son dos,

Ça n'existe pas, ça n'existe pas.

Un éléphant buvant du thé,

En compagnie d'une araignée,

Ça n'existe pas, ça n'existe pas.