


Questions de lecture

2 Réponds aux questions en faisant une phrase. 

Comment Zéphyrin a-t-il avalé la princesse ?

C'est en hurlant la bouche grande ouverte que Zéphyrin l'a avalée.

Qui a transformé la princesse en grenouille ?

C'est la sorcière Malgriffue qui l'a transformée.

2 Réponds aux questions en faisant une phrase. 

Pourquoi Zéphyrin ne peut-il pas manger d'enfants ?

La princesse grenouille hurle dans son ventre et fait fuir les enfants.

Pourquoi Zéphyrin est-il triste ?

Il regrette la jolie princesse Margabelle, elle lui manque.

Exercice d'orthographe

56 Complète par j ou par ge.

le **j**ournal, c'est **j**oli, une im**g**e, du froma**g**e, **j**ouer  
au ballon, un **j**ardin, une ora**ng**e, une **j**ournée,  
**j**anvier, une épon**g**e.

Réussite : /10

Écriture dans le cahier

page 45:


Le Rhin est un long fleuve européen. Regarde les photos : il est magnifique.

## Labyphrases


**LABYPHRASES**  
 Colorie la phrase correspondant au dessin.  
 Sens de déplacement: →↔↕

Prénom : .....  
 Date : .....


  



Dans	le	nid	de	arbre
son	les	feuilles	avec	chou.
bec	la	dedu	pour	nourrir
l'oiseau	farine	ver	danser	ses
tient	un	beau	une	trois
un	chat	lion	grande	oisillons
gros	vermoulu	mouche	grappe	salade



Demain	chat	peur	eau	sans
Loup	le	des	bottes	neuves
Elles	dans	et	son	pluie.
Ils	volent	jaune	belles	bébé.
Il	nage	impermeable	parapluie	bouton.
Elle	chapeau	un	chapiteau	loupe.
Mélanie	a	mis	des	lunes.



Les	deux	petits	enfants	sous
Pierre	et	Mélanie	volent	des
Des	la	s'amuse	des	beaux
Trois	lune	à	nuages	gris.
chats.	dans	marcher	sur	matin.
allée.	glace	pied	les	képi
petite	la	de	pierres	manche.

Dans son bec, l'oiseau tient un beau ver dodu pour nourrir ses trois oisillons.

Mélanie a mis un imperméable jaune et des bottes neuves.

Pierre et Mélanie s'amuse à marcher sur les pierres de la petite allée.

## Maths

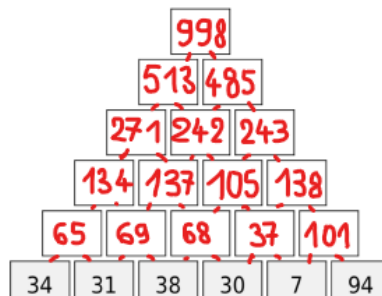
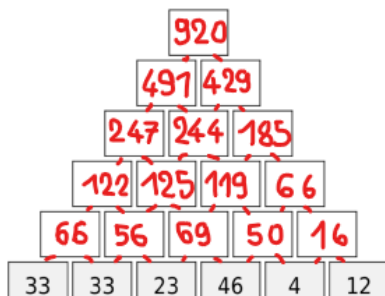
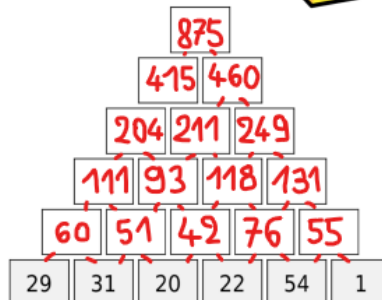
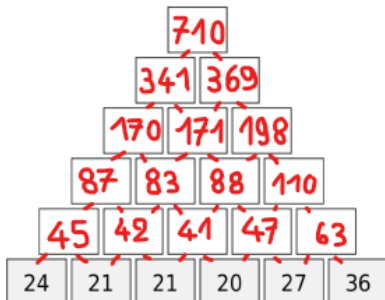
Certaines additions des pyramides sont faciles à faire dans la tête, pour d'autres tu peux évidemment poser l'opération pour trouver la réponse.

### PYRAMIDES ADDITIVES

Complète la pyramide de façon à ce que chaque case contienne la somme des deux cases qui se trouvent au-dessous.



unbozart - générateur damassé



Réponds aux questions et complète le tableau.

Classe	Filles	Garçons	TOTAL
CP	11	11	22
CE1	10	12	22
CE2	13	12	25
CM1	11	9	20
CM2	12	15	27
TOTAL	57	59	116

Quel est le nombre de filles au CE1?

10

Quel est le nombre d'élèves au CE1?

$$10 + 12 = 22$$

Quel est le nombre de filles au CM2?

$$27 - 15 = 12$$

Quel est le nombre de garçons dans l'école?

$$11 + 12 + 12 + 9 + 15 = 59$$

Quel est le nombre d'élèves dans l'école?

$$57 + 59 = 116$$