

Vendredi 3 avril 2020

Tous les exercices sont à copier dans le cahier de devoirs (tu peux utiliser le porte-vues pour t'aider). Attention ! N'oublie pas que la présentation doit être la même que dans le cahier d'entraînement.

Merci de renvoyer l'exercice de grammaire par mail ☺

Français

Lecture « L'enfant Océan »



Lecture des chapitres 10 et 11 (page 55 à 62)
N'hésite pas à relire plusieurs fois les chapitres pour mieux les comprendre.

Préparation de la dictée :



- 1) Recopie la liste de mots sur ta feuille à carreaux.
- 2) Attention à bien vérifier l'orthographe de chaque mot.
- 3) Entraîne-toi à recopier les mots plusieurs fois sur ton ardoise ou sur une feuille de brouillon.

Les mots de la liste seront utilisés à partir de lundi pour la dictée.

Liste 12 : un doigt, un bracelet, un poignet, la vitesse, une statue, la crispation, la nuque, la soie, une tresse, en même temps, autour, parfois, courir, retomber, suspendu(e), incroyable, fragile, pâle

Grammaire (à renvoyer par mail) :



Avant de commencer les exercices, relis la leçon G8



G8 – Les adjectifs qualificatifs

L'**adjectif qualificatif** est un mot qui **qualifie** le nom qu'il accompagne.
Ce paysage est vraiment magnifique. (Comment est-il ? Il est magnifique)
Il **s'accorde** en **genre** et en **nombre** avec lui.

L'adjectif qualificatif peut être :

- **épithète** : il est placé à **côté** du nom qu'il qualifie : un choc sourd
- **attribut du sujet** : il est séparé du nom par un **verbe d'état** (être, sembler, paraître...) : L'atterrissage fut très rude.

Recopie ces phrases, souligne les adjectifs et indique s'ils sont épithète du nom ou attribut du sujet

Alexis et Sonia traversent une immense forêt.

Son grand-père a subi une grave opération chirurgicale.

L'histoire que raconte Christophe semble incroyable.

Ce chemin tortueux mène jusqu'à la plage.

Les fruits que nous cueillons sont mûrs.

Aujourd'hui, les caméscopes que nous utilisons sont numériques.

Allan joue de la guitare électrique.

Mathématiques :

Problèmes :



N'hésite pas à faire un dessin sur ton ardoise ou une feuille de brouillon pour t'aider.

Je sais résoudre des problèmes

Un convoi de 126 camions se rend en Afrique. Chaque camion transporte 27 tonnes de marchandises.

Combien de tonnes de marchandises le convoi transporte-t-il ?

Bonus : Pour leur vol de 12 548 km, quatre pilotes se relaient pour piloter l'avion pendant exactement le même nombre de kilomètres. Durant combien de kilomètres exactement chacun pilotera-t-il l'avion ?

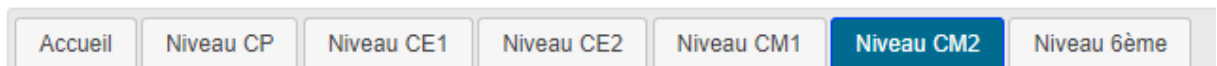
Calcul mental : révision des tables de multiplication



Avant de commencer, il faut te rendre sur le site :

https://calculatice.ac-lille.fr/spip.php?rubrique2&fbclid=IwAR3RbTaDNdANqDGEQxWK5-PnYa-P4FfuyagRA4jAMhX1u64-bQ_RJ6TDi34

1) Clique sur « niveau CM2 »



2) Dans la partie « Mémoriser les tables de multiplications », cherche la partie « toutes les tables »

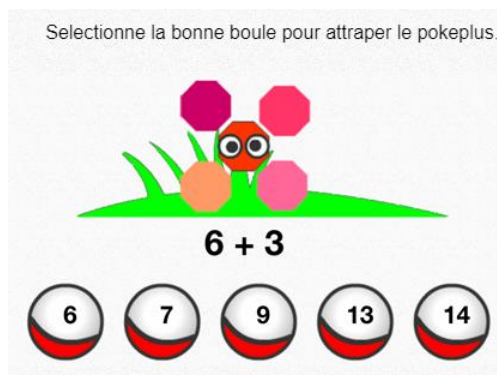


3) Les numéros correspondent aux différents niveaux. Le 1 est le plus simple, le 4 est le plus difficile. Commence par le 1 et continue jusqu'au niveau 4.

4) L'oiseau



5) PokéMaths



Géométrie :



Avant de commencer les exercices, relis la leçon G5.

Tu peux t'aider de la vidéo suivante :

<https://www.youtube.com/watch?v=0wiVts7MmLw>

Je sais construire des cercles

1. Construis un cercle de centre B et de diamètre 8cm
2. Construis un cercle de centre O et de rayon 3,5cm

Histoire :




Avant de commencer, relire les leçons sur la Première Guerre Mondiale : H11, H12 et H13.

Rappelle-toi : la dernière fois, nous avons vu que les femmes travaillaient à la place des hommes dans les usines et dans les champs. La vie était très difficile : la nourriture était rationnée.

Observe le document et réponds aux questions dans ton cahier de devoirs :

Lorsque la guerre se termine, la France est dévastée. 1,4 million de Français sont morts, ce qui représente 4 Français sur 100. Beaucoup de combattants rentrent chez eux blessés ou mutilés. La majorité des familles est touchée, on compte beaucoup de veuves et d'orphelins de guerre. Les soldats disparus sont souvent jeunes. Leur perte entraîne une chute du nombre des naissances dans les années qui suivent. De plus, de nombreux soldats morts au front ne peuvent pas être identifiés. Pour leur rendre hommage, une tombe à la mémoire du soldat inconnu est installée sous l'Arc de triomphe à Paris.

Des villages entiers ont été détruits par les bombardements et les combats. Leurs habitants se retrouvent donc sans domicile. L'État doit alors reconstruire le pays et apporter une aide financière aux blessés, aux veuves et aux orphelins de guerre.



1. Cite au moins 3 conséquences de la guerre.
2. Explique pourquoi une tombe a été installée sous l'Arc de triomphe à Paris.