


Jeudi 2 avril 2020

CM2 A7

Tous les exercices sont à copier dans le cahier de devoirs (tu peux utiliser le porte-vues pour t'aider). Attention ! N'oublie pas que la présentation doit être la même que dans le cahier d'entraînement.

Les exercices avec une étoile  sont plus difficiles. S'ils te posent problème, tu n'es pas obligé de le faire.

Merci de renvoyer la dictée par mail. 😊

FRANÇAIS

Littérature :

- **lis les chapitres 7, 8 et 9** du livre « Moi, Félix 10 ans sans-papiers ». Attention, lis le bien attentivement car il y aura des questions de compréhension sur le texte demain.

Imparfait :

- revoir leçon C7



COUP DE POUCE !

N'oublie pas de bien chercher le sujet pour accorder le verbe !

Je sais conjuguer à l'imparfait

Je (finir) mon travail. Le chien (obéir) à son maître. Il (voir) la mer pour la première fois. On (mettre) un manteau avant de sortir. Les élèves (aller) à l'école. Léa (changer) de position toute la nuit. Le lion (rugir) dans la savane. Je (être) heureux de vous voir. Vous (raconter) n'importe quoi. Il (prendre) son courage à deux mains. Vous (avoir) un nouveau livre. Ils (ouvrir) la porte doucement.

Je sais transformer à l'imparfait

De nombreux participants seront déjà sur place. Quelle réussite dans ce que tu as entrepris!

Dictée flash :

Sur le site de l'école (partie CM2), tu trouveras un fichier audio pour la dictée d'aujourd'hui. Écoute-le autant de fois que nécessaire. Relis-toi bien, en utilisant les techniques apprises en classe. Prends le temps qu'il te faut.

Attention ! Le but est que tu progresses, donc travaille seul(e) !

MATHÉMATIQUES

Problèmes :



COUP DE POUCE !

N'hésite pas à utiliser ton ardoise ou une feuille de brouillon pour t'aider si nécessaire.

Je sais résoudre des problèmes

Basile se rend à vélo chez son ami Luc qui habite à 8,4 km de chez lui. Ils font ensemble un tour de 58 km dans la forêt, puis Basile rentre chez lui.

Quelle distance totale Basile a-t-il parcourue ?

★ A l'épreuve de saut en longueur, Jean a sauté 3,10 m, c'est-à-dire 25 cm de plus que Zoé mais 4,5 dm de moins que Benoît.

Calcule la longueur, en mètre, sautée par Zoé et Benoît.

Calcul mental :

ATTENTION ! LES CALCULS NE DOIVENT PAS ÊTRE POSÉS !

Je connais les tables de division (avec ou sans reste)

$9 : 2 = \dots\dots$

$59 : 10 = \dots\dots$

$57 : 8 = \dots\dots$

$78 : 9 = \dots\dots$

$40 : 6 = \dots\dots$

$4 : 3 = \dots\dots$

$55 : 6 = \dots\dots$

$15 : 5 = \dots\dots$

$21 : 9 = \dots\dots$

$78 : 7 = \dots\dots$

$26 : 4 = \dots\dots$

$30 : 4 = \dots\dots$

Quadrilatères :

Fais tes tracés sur une feuille blanche ou dans ton cahier mais n'utilise pas les lignes !

COUP DE POUCE !



Tu peux à nouveau regarder les vidéos avant de démarrer !

Vidéo du carré : <https://www.youtube.com/watch?v=VFDx1ub24jc>

Vidéo du rectangle : <https://www.youtube.com/watch?v=StVLqZLZibU>

Je sais construire des carrés et des rectangles

1. Construis un carré COUR de 5,2cm de côté
2. Construis un rectangle MIDI avec une longueur de 3,9cm et une largeur de 1,5cm
3. Construis un rectangle FORT avec une longueur de 7,2cm et une largeur de 4cm

ATTENTION ! Les tracés doivent être très précis et soignés. Vérifie bien ton travail à chaque étape.

EMC

- Regarde la vidéo, lis le document puis réponds aux questions

<https://lesfondamentaux.reseau-canope.fr/discipline/instruction-civique-histoire-geographie/les-cles-de-la-republique/organisation-de-la-vie-publique/la-separation-des-pouvoirs.html>

1. On distingue trois grands types de pouvoirs politiques :


Le pouvoir législatif

Faire les lois, c'est le travail du Parlement, à la fois les députés de l'Assemblée nationale et les sénateurs.




Le pouvoir exécutif

Appliquer et faire appliquer les lois, sous l'autorité du président de la République et du Premier ministre



Le pouvoir judiciaire

Instruire et sanctionner en cas de non respect des lois, c'est le pouvoir judiciaire sous la responsabilité des juges eux-mêmes nommés par le gouvernement.



1. Quels sont les 3 pouvoirs ?
2. Pourquoi a-t-on séparé ces 3 pouvoirs ?



3. Quel pouvoir préférerais-tu détenir ? Pourquoi ?