

Correction du vendredi 3 avril 2020

Français

Grammaire (à renvoyer par mail) :

Recopie ces phrases, souligne les adjectifs et indique s'ils sont épithète du nom ou attribut du sujet

Alexis et Sonia traversent une **immense** forêt.

Son grand-père a subi une **grave** opération **chirurgicale**.

L'histoire que raconte Christophe semble **incroyable**.

Ce chemin **tortueux** mène jusqu'à la plage.

Les fruits que nous cueillons sont **mûrs**.

Aujourd'hui, les caméscopes que nous utilisons sont **numériques**.

Allan joue de la guitare **électrique**.

épithète du nom : placé à côté du nom qu'il qualifie

attribut du sujet : séparé du nom par un verbe d'état (être, sembler...)

Mathématiques :

Problèmes :

Je sais résoudre des problèmes

Un convoi de 126 camions se rend en Afrique. Chaque camion transporte 27 tonnes de marchandises.

Combien de tonnes de marchandises le convoi transporte-t-il ?

Correction :

$$\begin{array}{r}
 1261 \\
 \times 2741 \\
 \hline
 111 \\
 882 \\
 2520 \\
 \hline
 3402
 \end{array}$$

Le convoi transporte 3 402 tonnes de marchandises.

Bonus : Pour leur vol de 12 548 km, quatre pilotes se relaient pour piloter l'avion pendant exactement le même nombre de kilomètres. Durant combien de kilomètres exactement chacun pilotera-t-il l'avion ?

Correction :

$$\begin{array}{r}
 12548 \mid 4 \\
 - 12 \mid 3137 \\
 \hline
 005 \\
 - 4 \\
 \hline
 14 \\
 - 12 \\
 \hline
 028 \\
 - 28 \\
 \hline
 00
 \end{array}$$

Chacun pilotera l'avion pendant 3 137 kilomètres.

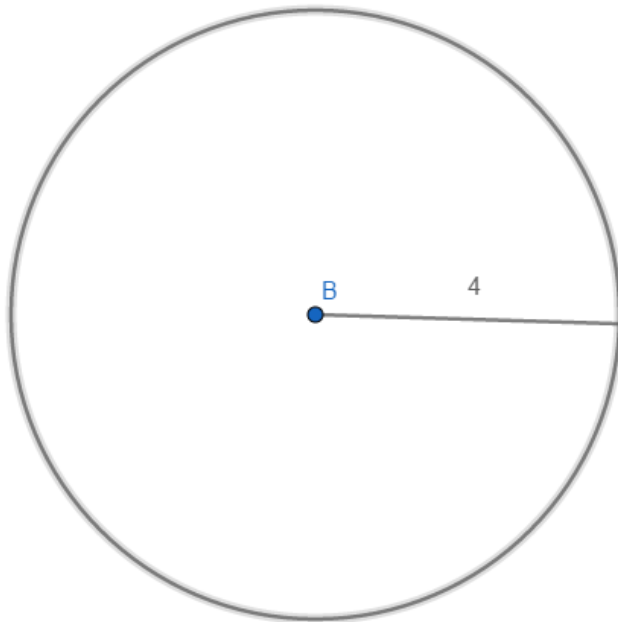
Géométrie :

Je sais construire des cercles

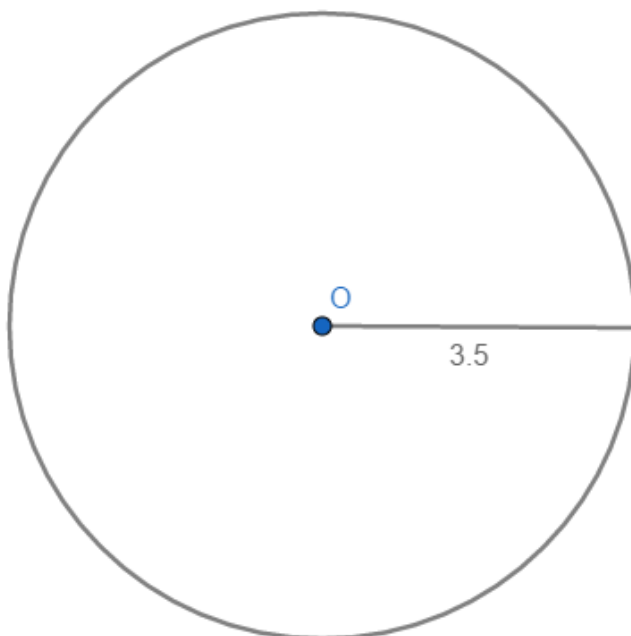
Pour corriger, mesure bien le rayon de chacun de tes cercles.

1. Construis un cercle de centre B et de diamètre 8cm

Ici le diamètre est égal à 8cm, ce qui signifie que le rayon est égal à 4cm.



2. Construis un cercle de centre O et de rayon 3,5cm




Histoire :

Observe le document et réponds aux questions dans ton cahier de devoirs :

Lorsque la guerre se termine, la France est dévastée. 1,4 million de Français sont morts, ce qui représente 4 Français sur 100. Beaucoup de combattants rentrent chez eux blessés ou mutilés. La majorité des familles est touchée, on compte beaucoup de veuves et d'orphelins de guerre. Les soldats disparus sont souvent jeunes. Leur perte entraîne une chute du nombre des naissances dans les années qui suivent. De plus, de nombreux soldats morts au front ne peuvent pas être identifiés. Pour leur rendre hommage, une tombe à la mémoire du soldat inconnu est installée sous l'Arc de triomphe à Paris.

Des villages entiers ont été détruits par les bombardements et les combats. Leurs habitants se retrouvent donc sans domicile. L'État doit alors reconstruire le pays et apporter une aide financière aux blessés, aux veuves et aux orphelins de guerre.



1. Suite à la guerre :

- il y a de nombreux morts, beaucoup de blessés ou de mutilés
- de nombreuses femmes sont veuves (leur mari est mort)
- des enfants deviennent orphelins de guerre (leur père est mort au combat)
- le nombre de naissances chute
- les bombardements ont détruit de nombreux villages
- de nombreux habitants n'ont donc plus de maisons et vivent dans la rue
- l'État doit donner énormément d'argent pour reconstruire le pays et aider les familles des soldats disparus.

2. Une tombe a été installée sous l'arc de Triomphe à Paris pour rendre hommage aux soldats qui ne pouvaient pas être identifiés.