

Vendredi 20 mars 2020

Tous les exercices sont à copier dans le cahier de devoirs (tu peux utiliser le porte-vues pour t'aider). Attention ! N'oublie pas que la présentation doit être la même que dans le cahier d'entraînement.

Merci de renvoyer l'exercice de grammaire par mail ☺

# Français

## Lecture compréhension



Lire le chapitre 2 du livre « L'enfant Océan »  
(page 17 à 21)

**Réponds aux questions sur ton cahier de devoirs (tu peux t'aider du livre) :**

1. Est-ce que Yann aimait bien l'école ? Donne un exemple du soin que Yann apportait à son travail scolaire.
2. En quelle classe est Yann maintenant ?
3. Pourquoi le père Doutreleau a-t-il jeté le cartable de son fils dans le puits de la ferme (« à la baille ») ?
4. Comment a réagi Yann ?

**Bonus :**

- 5) Pourquoi la mère de Yann n'est-elle pas contente de l'avoir comme enfant ?
- 6) Quel âge avait Yann lorsqu'il a « répondu à son père » ?

## Phrase du jour :



Avant de faire l'exercice, relire les leçons G1, G2 et G3

Pendant les vacances, nos voisins ramasseront notre courrier.  
Le gardien de but se plaint bruyamment de la lenteur de ses défenseurs.

- 1) Souligne les sujets et les verbes conjugués
- 2) Souligne les CC et les COD/COI

## Grammaire (à renvoyer par mail) :



Avant de commencer les exercices, relire la leçon G8

### Je sais accorder les adjectifs

Réécrit le texte en remplaçant « mon grand-père » par « ma grand-mère ».

Mon grand-père était édenté. La plupart des grands-pères sont de charmants vieux messieurs, lui était râleur et médisant.

Ma grand-mère .....

# Mathématiques :

## Problèmes :



N'hésite pas à utiliser ton ardoise ou une feuille de brouillon pour t'aider.

### Je sais résoudre des problèmes d'additions, de soustractions et de multiplications.

Une salle de spectacle peut accueillir 706 spectateurs. La salle était pleine lors des 29 dernières représentations d'une pièce de théâtre. Combien de spectateurs ont assisté à la représentation de cette pièce ?

Bonus : Sam doit terminer de poser le carrelage de sa salle à manger. Il a déjà posé 176 carreaux et il lui en reste deux fois plus à poser. Combien de carreaux seront posés en tout dans sa salle à manger ?

## Calcul mental : révisions des tables de multiplication



Avant de commencer, il faut te rendre sur le site :

[https://calculatice.ac-lille.fr/spip.php?rubrique2&fbclid=IwAR3RbTaDNdANgDGEQxWK5-PnYa-P4FfuyagRA4jAMhX1u64-bQ\\_RJ6TDi34](https://calculatice.ac-lille.fr/spip.php?rubrique2&fbclid=IwAR3RbTaDNdANgDGEQxWK5-PnYa-P4FfuyagRA4jAMhX1u64-bQ_RJ6TDi34)

1) Clique sur « niveau CM2 »

Accueil

Niveau CP

Niveau CE1

Niveau CE2

Niveau CM1

Niveau CM2

Niveau 6ème





2) Dans la partie « Mémoriser les tables de multiplications », cherche la partie « toutes les tables »

Toutes les tables	—	—	—	—
Quadricalc	1	2	3	4
calcul@kart	1	2	3	4
Multiclic	1	2	3	4
Opérations à trous	1	2	3	4
Table attaque	1	2	3	4
Le rectangle	1	2	3	4
Tri sélectif	1	2	3	4
L'oiseau	1	2	3	4
PokéMaths	1	2	3	4

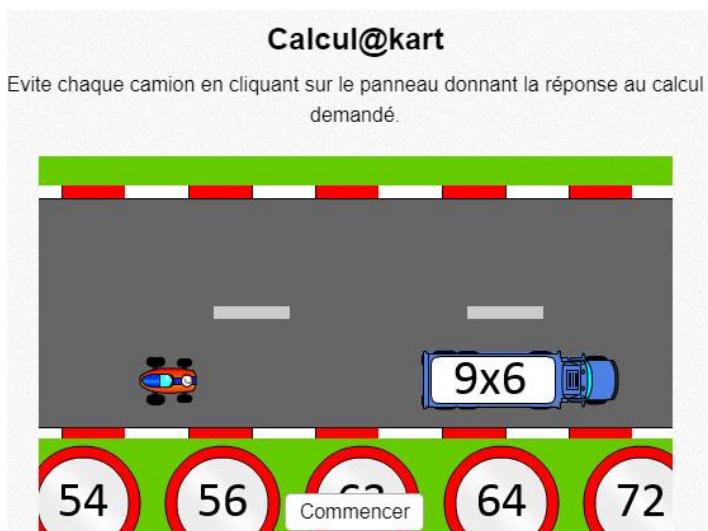
3) Les numéros correspondent aux différents niveaux. Le 1 est le plus simple, le 4 est le plus difficile.

4)




Aide : utilise les flèches du clavier     pour déplacer le calcul.

5)



## Géométrie : Les triangles



Avant de commencer, relire les leçons G6 et G7.

Tu peux t'aider des vidéos suivantes :

Le triangle rectangle : <https://www.youtube.com/watch?v=mLSK59tluLQ>

Le triangle équilatéral : [https://www.youtube.com/watch?v=uK1\\_gsglEt4](https://www.youtube.com/watch?v=uK1_gsglEt4)

### Je sais construire des triangles

1. Construis un triangle MNO avec  $MN = 3,1\text{cm}$   $NO = 4,5\text{cm}$   $MO = 3,9\text{cm}$
2. Construis un triangle ABC rectangle en A
3. Construis un triangle équilatéral DEF de 5,5cm de côté

**ATTENTION !** Les tracés doivent être très précis et soignés. Vérifie bien ton travail à chaque étape.

# Histoire :




Avant de commencer, relire les leçons sur la  
Première Guerre Mondiale : H11 et H12


Observe le document et réponds aux questions dans ton cahier de devoirs :



a. Les sous-marins.



b. Les avions de combat.



c. Les armes chimiques.



d. Les chars.

1) Décris les photographies.

2) Que t'apprennent ces photographies sur les combats ?